

Alle thema's

Omcirkel het juiste antwoord.

Vraag 1

Amy en Tygo willen oversteken. Een auto komt de bocht om. Wie mag voorgaan?



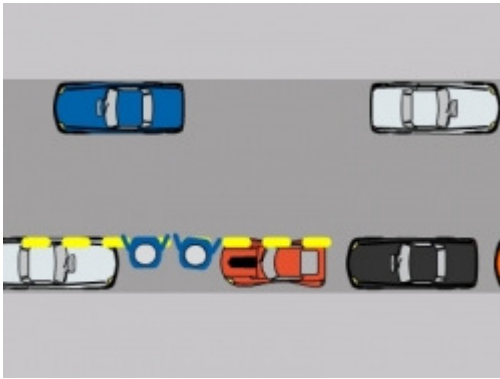
A: Amy en Tygo, want zij gaan rechtdoor op dezelfde weg.

B: De auto, want op een gewoon kruispunt mogen bestuurders voorgaan.

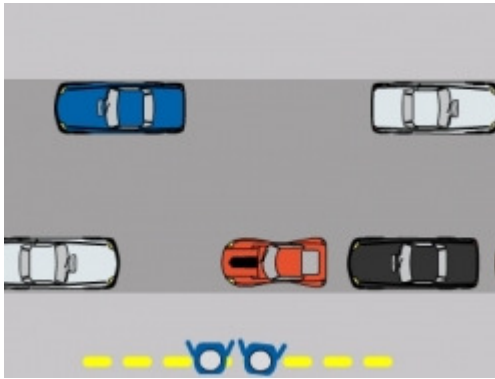
Vraag 2

Marco en Lisa willen oversteken. Bij welke tekening staan ze op de kijklijn?

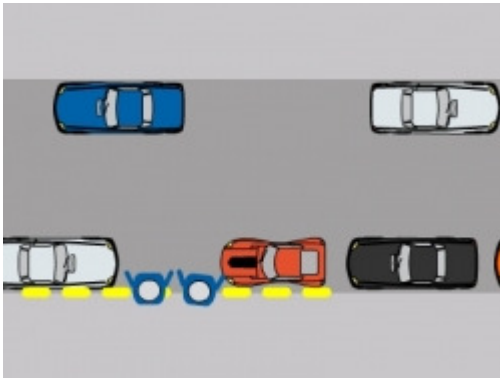
A:



B:



C:



Vraag 3

Anwar en Floor staan op een vluchtheuvel. Er komt een bus aan. Wie mag voorgaan?

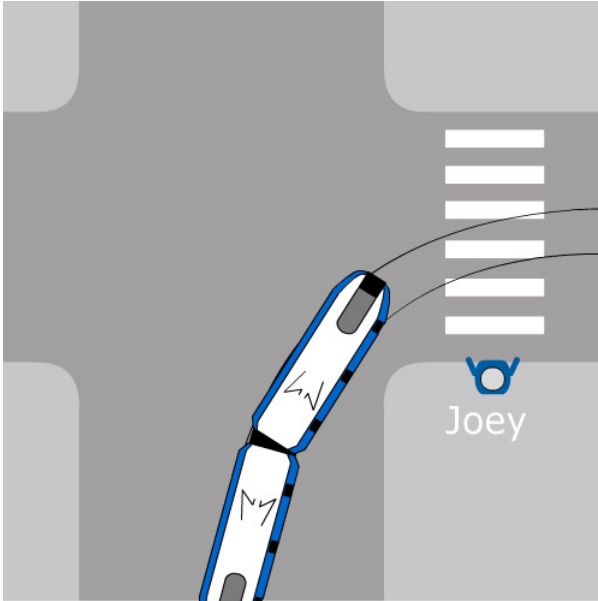


A: Anwar en Floor

B: de bus

Vraag 4

Joey wil oversteken bij het zebrapad. De tram komt de hoek om. Wie mag voorgaan?



A: Joey mag voorgaan.

B: De tram mag voorgaan.

Vraag 5

Tess en Daan willen oversteken. Een tram komt de bocht om. Wie mag voorgaan?



A: Tess en Daan

B: de tram

Vraag 6

Mag deze taxi op de bus- en trambaan rijden?



A: Dat mag alleen 's avonds en in het weekend.

B: Ja, dat mag.

C: Nee, dat mag niet.

Vraag 7

Langs de weg staat dit bord. Welke voertuig mag hier niet rijden?



A: politieauto

B: auto

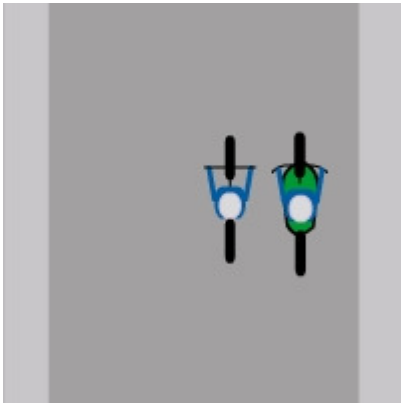
C: bromfiets

D: motor

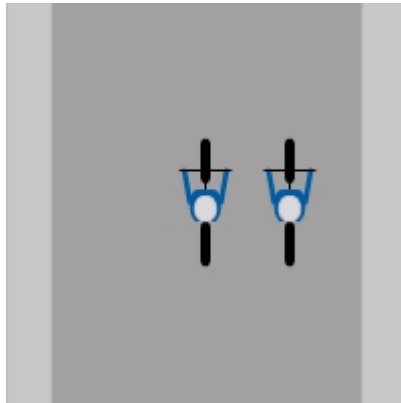
Vraag 8

Op de tekeningen zie je verschillende kinderen die samen naar school rijden. Wie doen het goed?

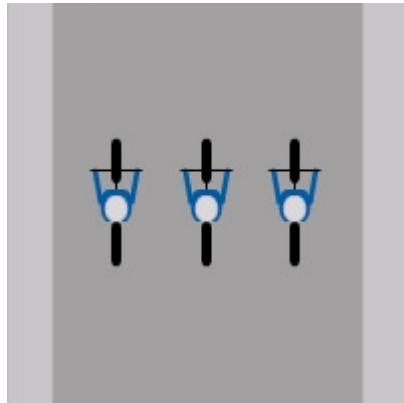
A: Amber



B: Sam en Lucas



C: Tim, Finn en Esmée



Vraag 9

Ryan wil dit kruispunt oversteken met zijn fiets. Er komt een bus aan. Wat is juist?



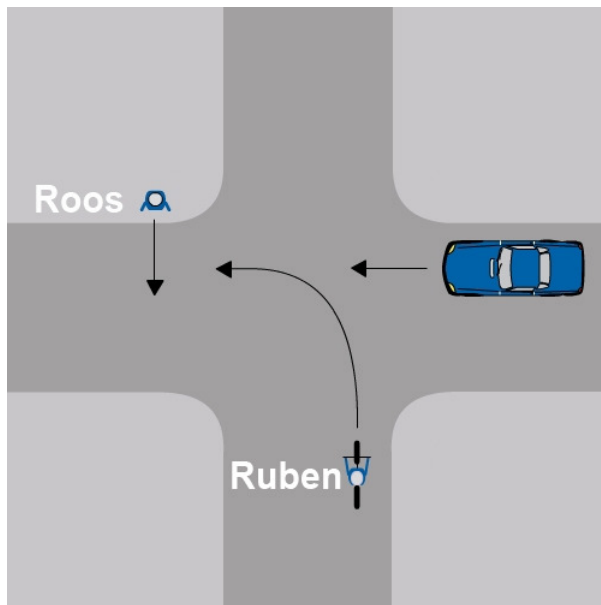
A: Ryan mag voorgaan, want hij komt van rechts.

B: Ryan mag voorgaan, want hij rijdt op een voorrangsweg.

C: De bus mag voorgaan, want die rijdt op een voorrangsweg.

Vraag 10

Roos wil oversteken, Ruben wil links afslaan, en er komt een auto aan. Wie mag eerst, en wie mag daarna?



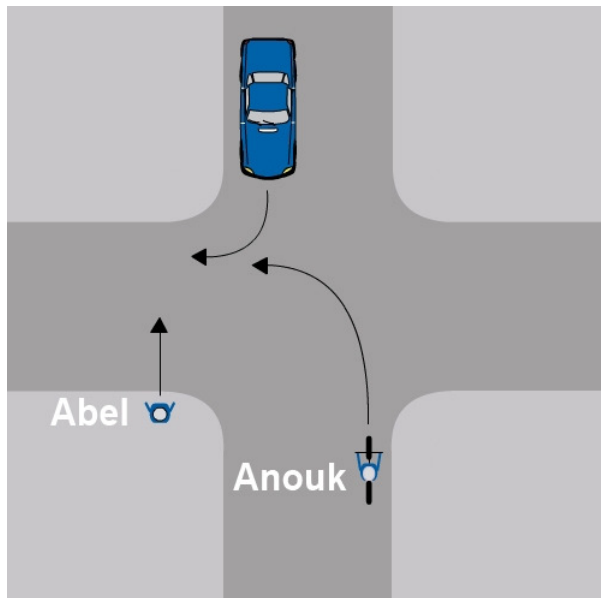
A: Eerst mag Roos, daarna Ruben, daarna de auto.

B: Eerst mag Roos, daarna de auto, daarna Ruben.

C: Eerst mag de auto, daarna Roos, daarna Ruben.

Vraag 11

Abel wil oversteken, Anouk wil links afslaan, en er komt een auto aan. Wie mag eerst, en wie mag daarna?



A: Eerst mag Abel, daarna Anouk, daarna de auto.

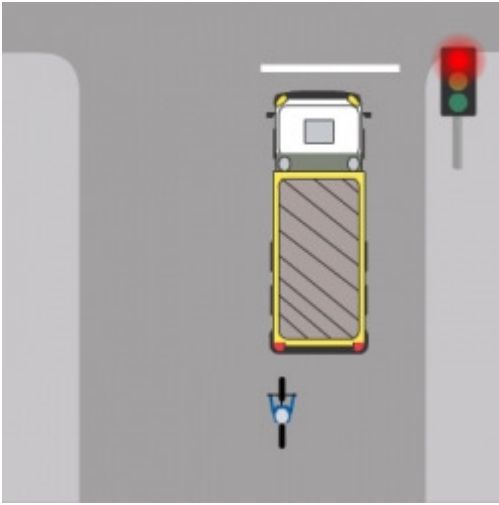
B: Eerst mag Abel, daarna de auto, daarna Anouk.

C: Eerst mag de auto, daarna Anouk, daarna Abel.

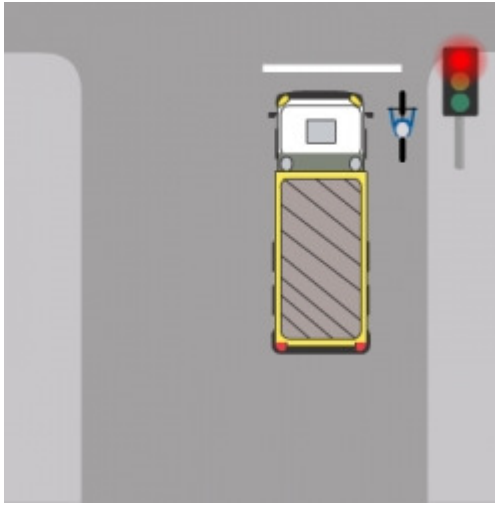
Vraag 12

Nikki staat naast een vrachtwagen te wachten voor het rode verkeerslicht. Wat is de veiligste plek om te wachten?

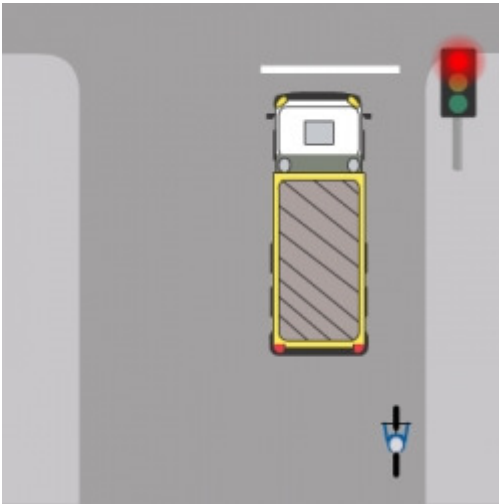
A:



B:



C:



Vraag 13

Welk bord zie je vaak bij een uitrit?

A:



B:



C:

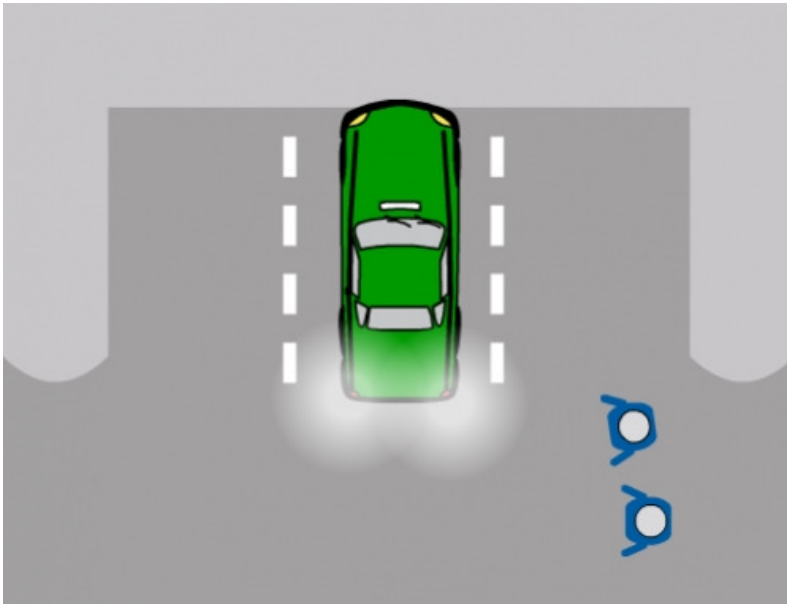


D:



Vraag 14

Tom en Senna lopen achter een geparkeerde auto langs. De auto wil achteruit wegrijden van de parkeerplaats. Wat is juist?



- A: De auto mag voorgaan, want hij ziet de kinderen niet.
- B: Tom en Senna mogen voorgaan, want de auto rijdt achteruit (maar ze moeten wel kijken of de auto wel stopt)
- C: De auto mag voorgaan, want die rijdt achteruit.

Vraag 15

Als je bagage meeneemt op je fiets, hoe breed mag deze maximaal zijn?

- A: 110 cm
- B: 90 cm
- C: 50 cm
- D: 75 cm

Vraag 16

Wat betekent dit bord?



- A: Dat het hier verboden is voor fietsers.
- B: Dat je hier niet verder mag fietsen.
- C: Dat het verplichte fietspad hier ophoudt.

Vraag 17

Wat betekent dit bord met onderbord?




- A: Tussen 8.00 en 16.00 uur mag je hier niet inrijden.
- B: Tussen 8.00 en 16.00 uur mag je hier niet parkeren.
- C: Je moet hier tussen 8.00 en 16.00 uur parkeren.

Vraag 18

Hier zie je vier voorrangsborden. Bij welk bord moet je voorrang geven?


A:



B:



C:



D:



Vraag 19

In het verkeer is er een vaste volgorde voor wat eerst geldt, en wat daarna etc. Wat is de goede volgorde?


A: 1. afspraken 2. instructies van een verkeersagent 3. verkeerslichten 4. borden en tekens op de weg

B: 1. instructies van een verkeersagent 2. verkeerslichten 3. borden en tekens op de weg 4. afspraken

C: 1. verkeerslichten 2. borden en tekens op de weg 3. afspraken 4. instructies van een verkeersagent

Vraag 20

Wat betekenen deze gebaren van een verkeersagent?



A: Al het verkeer van voren en achteren moet stoppen.

B: Al het verkeer van voren moet stoppen.

C: Al het verkeer van achteren moet stoppen.